

KHỞI ĐỘNG



Cung khơi động ngay mơ nhe chung ta hay giúp nhưng chu chim này trả lời tốt các câu hỏi để chúng có thể tránh đi mùa đông lạnh giá nhé!



PLAY



$+ 18 = ?$

30

= ?

64



37

= ?

73



Win!



Thứ ... ngày ... tháng ... năm ...

Toán

BÀI 21:

LUYỆN TẬP CHUNG

LUYỆN TẬP





luyện tập

1 Đặt tính rồi tính.

$$45 + 6$$

$$81 + 9$$

$$26 + 66$$

$$45 + 6$$

$$\begin{array}{r} 45 \\ + 6 \\ \hline 51 \end{array}$$

Nháp

$$5 + 6 = 11$$

○ **NHỚ' 1**

$$81 + 9$$

$$\begin{array}{r} 81 \\ + 9 \\ \hline 90 \end{array}$$

Nháp

$$1 + 9 = 10$$

○ **NHỚ' 1**

$$26 + 66$$

$$\begin{array}{r} 26 \\ + 66 \\ \hline 92 \end{array}$$

Nháp

$$6 + 6 = 12$$

○ **NHỚ' 1**

2 Con bê cân nặng 47kg. Con nghé nặng hơn con bê 18kg. Hỏi con nghé cân nặng bao nhiêu ki-lô-gam?

Bài giải


Con nghé cân nặng số ki-lô-gam là:

$$47 + 18 = 65 \text{ (kg)}$$

Đáp số: 65 kg.



3 Con lợn cân nặng bao nhiêu ki-lô-gam?



$$28 \text{ kg} + 5 \text{ kg} = 33 \text{ kg}$$

4

Số ?

Mỗi bạn xách bao nhiêu lít nước?



52 l



56 l



54 l

Các phép tính có gì đặc biệt?

Mỗi phép tính đều có hai số hạng giống nhau.

5 Số ?

Chuột túi tham gia một cuộc thi nhảy xa. Lần thứ nhất, từ tảng đá màu đỏ, chuột túi nhảy qua 4 tảng đá và được 25 điểm (như hình vẽ). Lần thứ hai, từ tảng đá màu đỏ, chuột túi nhảy qua 6 tảng đá.



a) Lần thứ hai chuột túi được **35** điểm.


$$25 + 35 = 60$$

b) Cả hai lần nhảy chuột túi được **60** điểm.

VẬN DỤNG



Bạn hãy giúp mình vận chuyển các thùng hàng lên xe bằng cách trả lời các câu hỏi sau thùng hàng nhé!



$$45 + 8 = ?$$

53



$$41 + 9 = ?$$

50



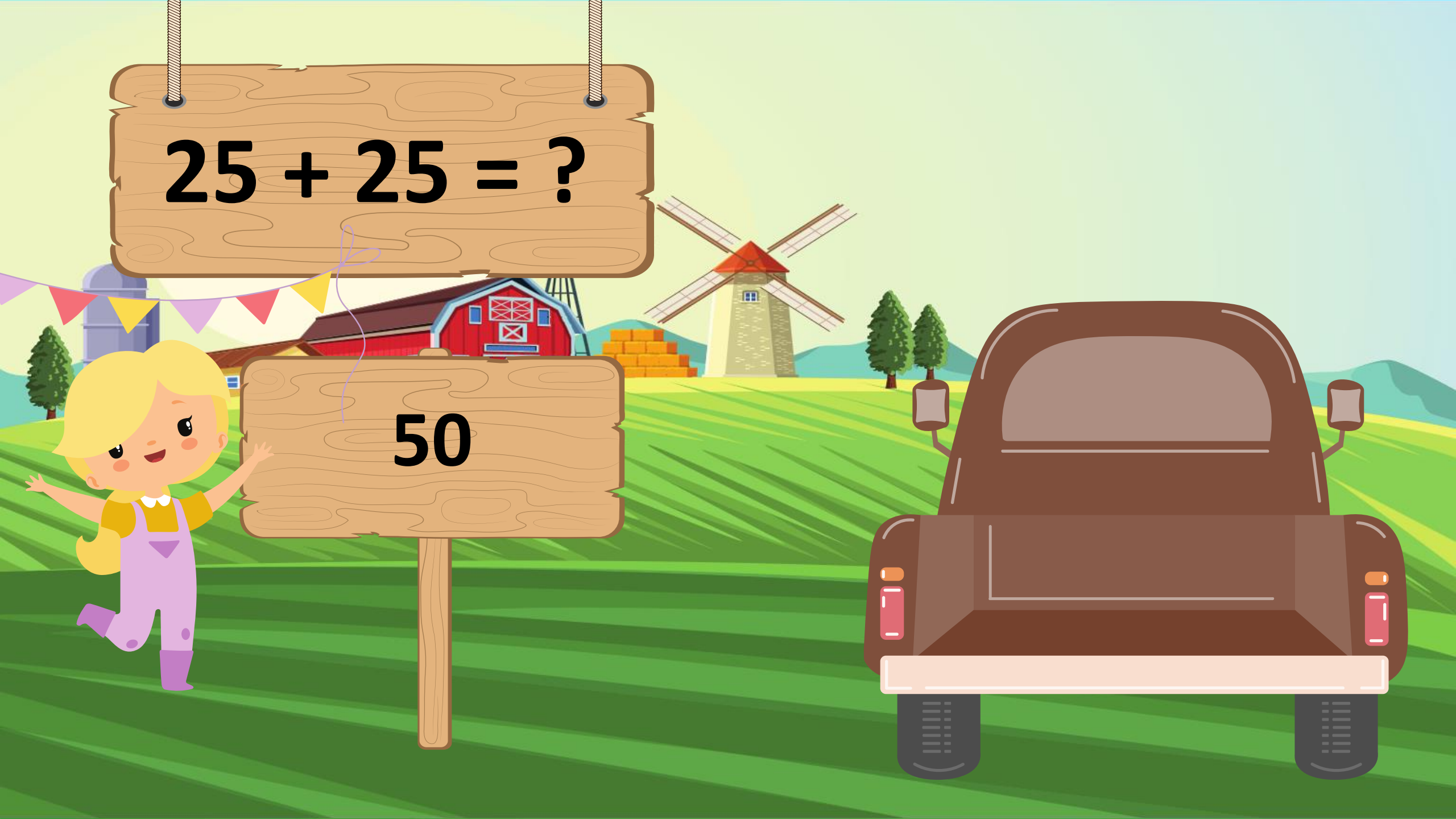
$$24 + 24 = ?$$

48



$$25 + 25 = ?$$

50



**Tạm biệt và
hẹn gặp lại**

